

ЛЕНИНГРАДСКАЯ ОБЛАСТЬ
МУНИЦИПАЛЬНЫЙ ЭТАП ВСЕРОССИЙСКОЙ ОЛИМПИАДЫ
ШКОЛЬНИКОВ ПО ГЕОГРАФИИ 2018-2019.

7 КЛАСС.

Тестовый раунд.

1. Чему равна действительная площадь квадрата, который на карте масштаба 1:35 000 000 изображен со стороной 1 см (0,5 балла)?
2. Абсолютная высота вулкана Килиманджаро 5895 м. Вычислите его относительную высоту, если он образовался на равнине, поднимающейся на 500 м над уровнем моря (0,5 балла)?
А) 5395 м; Б) 6395 м; В) 5805 м; Г) 11, 79 м.
3. Наука, изучающая озера (0,5 балла):
А) спелеология; Б) лимнология; В) геология; Г) гидрология.
4. Расположите указанные полуострова с севера на юг (0,5 балла):
А) Юкатан; Б) Лабрадор; В) Флорида.
5. Запишите соответствия слово-определение (по 0,5 балла за соответствие):

А) вадии	1. степи в Южной Америке
Б) пампа	2. пересыхающие реки в Африке
В) баргузин	3. пересыхающие реки в Австралии
Г) самум	4. мощный восточный ветер, дующий на Байкале
Д) крики	5. сильный ветер, с араб. «песчаная буря»
Е) саванна	6. обширная природная зона в Африке
6. Расположите в хронологической последовательности (от самого раннего) знаменитых путешественников, совершивших географические открытия (1 балл):
А) Абель Тасман; Б) Христофор Колумб; В) Марко Поло;
Г) Ф.Ф. Беллинсгаузен и М.П. Лазарев; Д) Витус Беринг.
7. Чем отличаются друг от друга горы Эверест и Джомолунгма (1 балл)?
8. Установите соответствие между сторонами горизонта и их азимутом (по 0,5 балла за соответствие):

1) Север	а) 135°
2) Запад-северо-запад	б) 0°
3) Юго-восток	в) 270°
4) Запад	г) 290°
9. Какую высоту относительно уровня Мирового океана имеет гора Х, если она на 1808 метров ниже Джомолунгмы (1 балл)?

Аналитический раунд.

Задача 1.

Ученик изобразил на листе бумаги города Москву, Санкт-Петербург, Минск, Харьков, Казань. Расстояние при этом между Москвой и другими городами он выразил следующими величинами: 62,5 мм, 65,1 мм, 67,5 мм, 75 мм. В каком направлении от Москвы изобразил ученик эти города, и каким масштабом он пользовался, если учесть, что Санкт-Петербург находится от Москвы на расстоянии 625 км, Минск – 651 км, Харьков – 675 км, Казань – 750 км (до 5 баллов)?

Задача 2.

Прочитайте текст и ответьте на ряд вопросов:

На этом удивительном озере живет «озерный народ» - индейцы племени аймара. Их жилища построены на искусственных плавучих островах, сплетённых из тростника. Острова известны под общим названием Уро – по названию племени индейцев, когда-то их населявших. Почти всё свою жизнь эти люди проводят на воде, а многие из них никогда не выходили на берег.

1. Как называется это озеро (0,5 балла)?
2. На каком материке оно расположено (0,5 балла)?
3. В каких горах оно расположено (0,5 балла)?
4. На какой высоте расположено озеро (1 балл)?
5. Каково происхождение озерной котловины (0,5 балла)?
6. Что в переводе с индейского языка означает название этого озера (1 балл)?
7. На границе каких двух государств расположено это озеро (по 0,5 балла)?

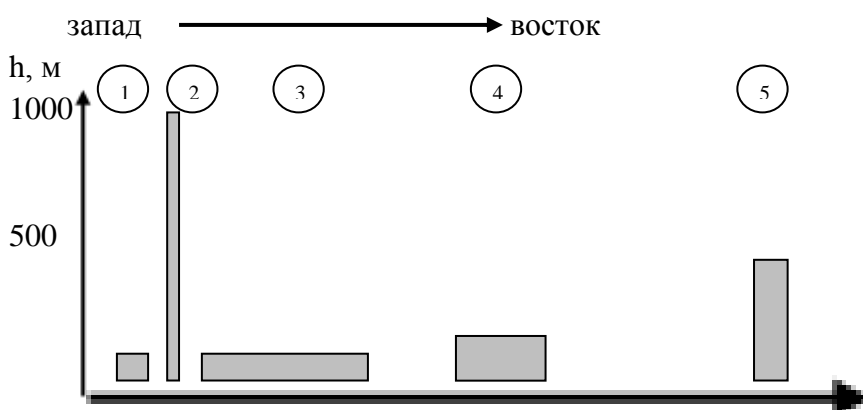
Задача 3.

Найдите в тексте ошибки и выпишите их через запятую (до 5 баллов).

По обе стороны от экватора в бассейне реки Замбези расположена зона экваториальных лесов Африки. Экваториальные леса растут в несколько ярусов. Листья деревьев верхнего яруса леса тонкие и нежные, а нижнего, наоборот, жесткие и плотные. Экваториальные леса вечнозеленые, они сбрасывают листву постепенно. Это родина многих ценных растений: масличной пальмы, эбенового дерева, зонтичной акации, молочаев. Животный мир лесов богат и разнообразен. Здесь водятся кистеухие свиньи, карликовые бегемоты, леопарды, гиены, лисицы. Зона лесов сменяется саваннами. Сочная высокая трава в течение всего года покрывает горы и долины. Здесь растут баобабы, верблюжья колючка. Почвы в саваннах красно-бурые. В саваннах много травоядных животных. В пустыне редкая растительность из-за большого количества осадков. Только в оазисах развивается богатая растительность, растет финиковая пальма.

Задача 4.

Определите природные объекты по схеме и описанию ниже и запишите их названия под цифрами, определите дополнительные объекты, выделенные в тексте жирным шрифтом (до 7 баллов):



Объект 1 – находится на границе **двух стран**, назван по одноименному гидрологическому объекту, с языка аборигенов означает «земля надвое». Не самый выдающийся объект известен своими «покорителями», которые пересекали его по цирковому канату, с завязанными глазами, с мешком на голове, в дубовой бочке и металлической цистерне.

Объект 2 – этот объект был открыт лишь в XX веке лётчиком, который искал вовсе не этот объект, а алмазы. Местное название Чурун-Меру. Объект находится в джунглях **плоскогорья** и до ближайшего города 600 км на север.

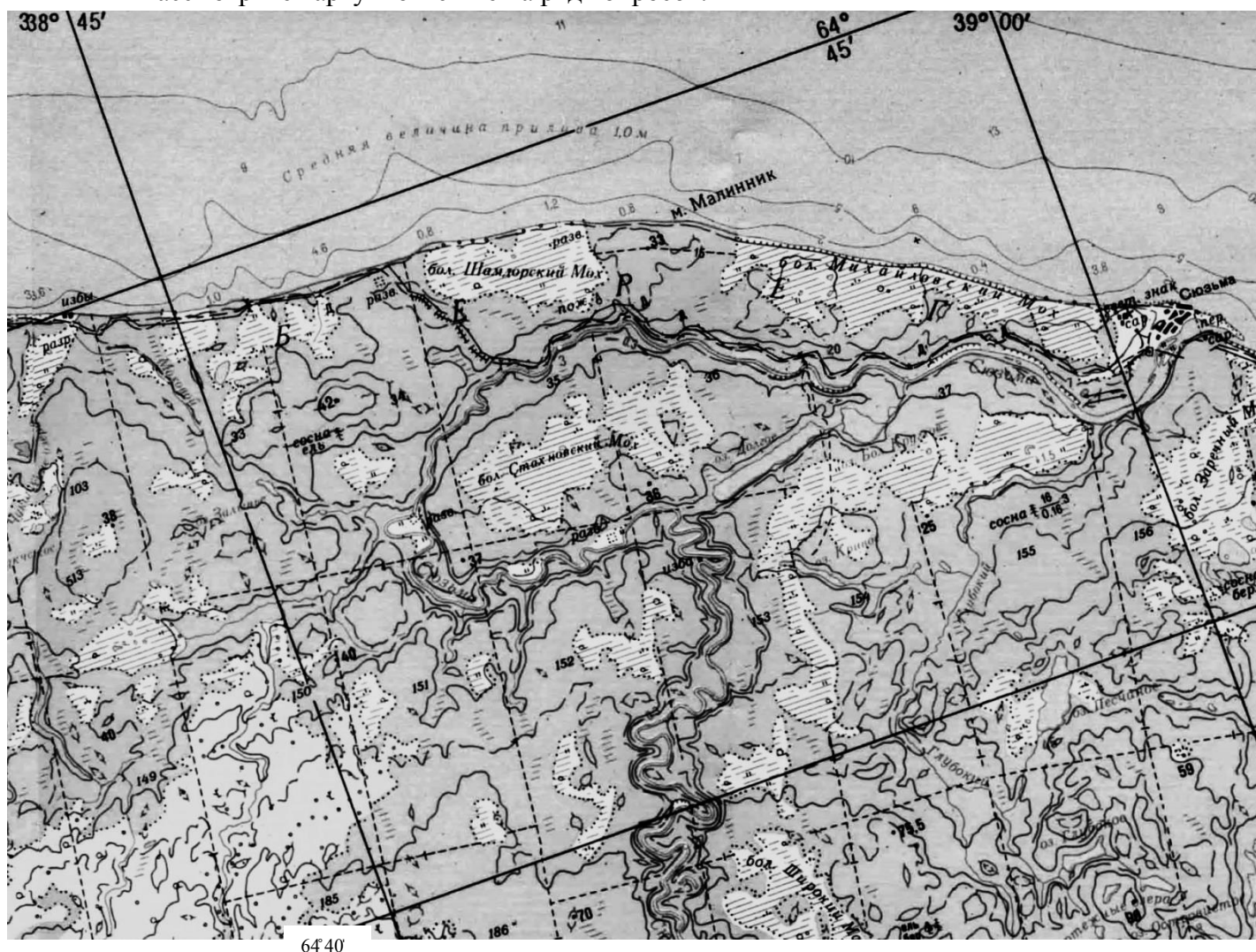
Объект 3 – этот удивительный объект образовался более 150 млн. лет назад в результате извержения вулканов на материке. На самом деле объект состоит из более чем 175 объектов поменьше. Объект простирается на **две страны**.

Объект 4 – объектов с таким названием на нашей планете насчитывается больше дюжины. С языка аборигенов означает «звук дыма», а более раннее название «место радуги». Объект обнаружен известным **английским путешественником** в конце XIX века, а сейчас находится на границе **двух стран**.

Объект 5 – этот объект находится на территории полуостровной **страны** и является каскадным. По высоте это самый высокий природный объект в той **части света**, где он находится, а в мире занимает твердое шестое место.

Задача 5.

Рассмотрите карту и ответьте на ряд вопросов:



1. Определите масштаб карты, если известно, что расстояние на местности от м. Малинник до переправы у поселка Сюзьма составляет 7,2 км. Опишите еще один способ определения масштаба этой карты (*за каждый способ по 2 балла*);
2. Определите по карте, через сколько метров проведены основные горизонтали (*1 балл*);
3. Как определить по данной карте направление север-юг? Назовите **два** способа (*2 балла за ОБА способа*);
4. Охарактеризуйте лес, произрастающий по правому берегу ручья Глубокий (*1 балл за полный ответ*);
5. Опишите все типы растительности, встречающиеся на карте (*по 0,5 балла за каждый тип*).

МАКСИМАЛЬНОЕ КОЛИЧЕСТВО БАЛЛОВ - 46

ЛЕНИНГРАДСКАЯ ОБЛАСТЬ
МУНИЦИПАЛЬНЫЙ ЭТАП ВСЕРОССИЙСКОЙ ОЛИМПИАДЫ
ШКОЛЬНИКОВ ПО ГЕОГРАФИИ 2018-2019.

8 КЛАСС.

Тестовый раунд.

1. Чему равна действительная площадь квадрата, который на карте масштаба 1:35 000 000 изображен со стороной 1 см (0,5 балла)?
2. Абсолютная высота вулкана Килиманджаро 5895 м. Вычислите его относительную высоту, если он образовался на равнине, поднимающейся на 500 м над уровнем моря (0,5 балла)?
А) 5395 м; Б) 6395 м; В) 5805 м; Г) 11, 79 м.
3. Какому направлению соответствует азимут 112,5° (1 балл)?
4. Запишите соответствия слово-определение (по 0,5 балла за соответствие):

А) вади	1. степи в Южной Америке
Б) пампа	2. пересыхающие реки в Африке
В) баргузин	3. пересыхающие реки в Австралии
Г) самум	4. мощный восточный ветер, дующий на Байкале
Д) крики	5. сильный ветер, с араб. «песчаная буря»
Е) саванна	6. обширная природная зона в Африке
5. О каком море идет речь? Соленость воды 11-13 ‰, t воды летом +25... +30°C, зимой - 0°C, в марте покрывается льдом, после шторма долго остается мутным (1 балл):
А) Азовское; Б) Мраморное;
В) Белое; Г) Аральское.
6. Расставьте города по убыванию годового слоя испарения (1 балл):
А) Уэлен; Б) Пенза;
В) Волгоград; Г) Сочи.
7. Подберите к путешественнику второго по значимости человека в экспедициях (по 0,5 балла за соответствие):

А) Ф. Магеллан	1. М.П. Лазарев
Б) Ф.Ф. Беллинсгаузен	2. Эль-Кано
В) В. Беринг	3. Ю.Ф. Лисянский
Г) М.Ф. Крузенштерн	4. А.И. Чириков
8. У Калининградской области нет сухопутных границ с РФ. Какая еще область Российской Федерации не имеет сухопутных границ с другими субъектами РФ (1 балл)?

Аналитический раунд.

Задача 1.

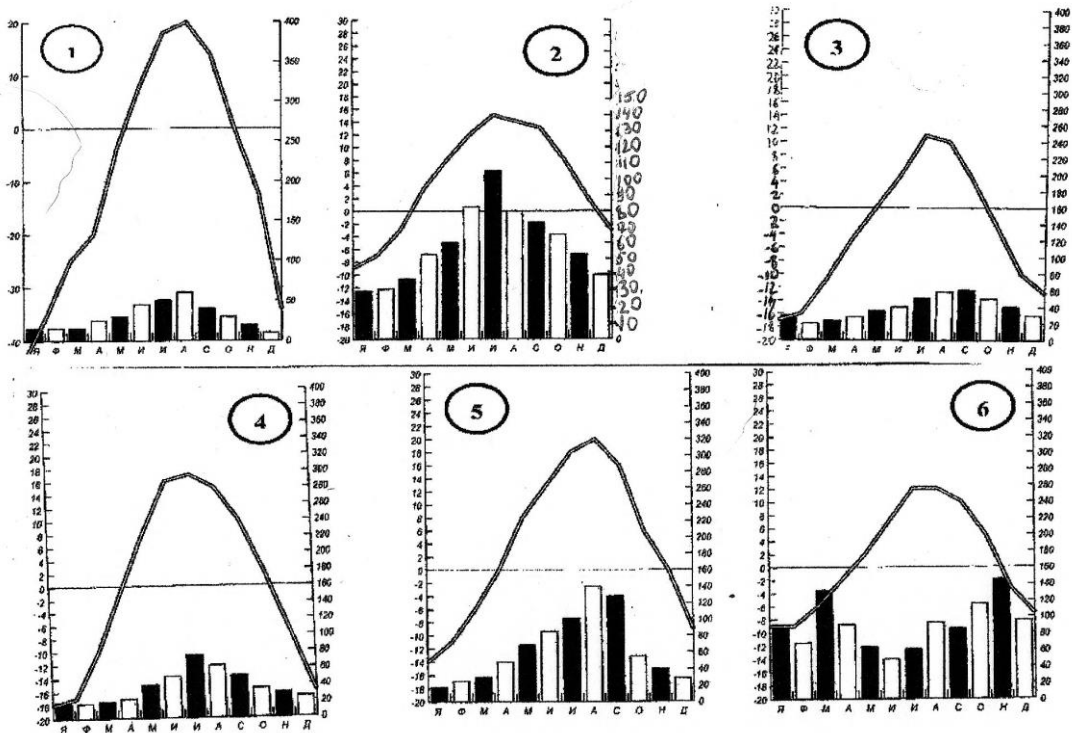
Прочитайте текст и ответьте на ряд вопросов:

На этом удивительном озере живет «озерный народ» - индейцы племени аймара. Их жилища построены на искусственных плавучих островах, сплетённых из тростника. Острова известны под общим названием Уро – по названию племени индейцев, когда-то их населявших. Почти всё свою жизнь эти люди проводят на воде, а многие из них никогда не выходили на берег.

1. Как называется это озеро (0,5 балла)?
2. На каком материке оно расположено (0,5 балла)?
3. В каких горах оно расположено (0,5 балла)?
4. На какой высоте расположено озеро (1 балл)?
5. Каково происхождение озерной котловины (0,5 балла)?
6. Что в переводе с индейского языка означает название этого озера (1 балл)?
7. На границе каких двух государств расположено это озеро (по 0,5 балла)?

Задача 2.

Соотнесите города и климатограммы и заполните таблицу на листе ответов (по 0,2 балла за каждую верную ячейку таблицы):



Города: Нарьян-Мар, Владивосток, Москва, Якутск, Тобольск, Петропавловск-Камчатский.

№ климатограммы	город	Субъект РФ	Тип климата/климатич. пояс	Годовая амплитуда температур	Годовое кол-во осадков
1					
2					
3					
4					
5					
6					

Задача 3.

Перед вами топонимы Ленинградской области. Разбейте их на смысловые группы и объясните свой выбор – объекты не должны повторяться в нескольких группах. Ответ оформите в виде таблицы (по 1 баллу за смысловую группу, по 0,25 балла за топоним):

№	Смысловая группа	Объекты
1		
2		
...		

Волхов, Будогощь, Дубровка, Извара, Вартемяки, Иссад, Луга, Кавголово, Войбокало, Копорье, Старая Ладога, Тихвин, Кипень, Сясьстрой, Выра, Высоцк, Рябово, Любань, Глебычево, Мыза, Назия, Лемболово, Гостилицы, Лодейное Поле, Мга, Котельниково, Ополье, Ломоносов, Можайский, Воейково, Свирица, Тосно, Ушаки, Советский.

Задача 4.

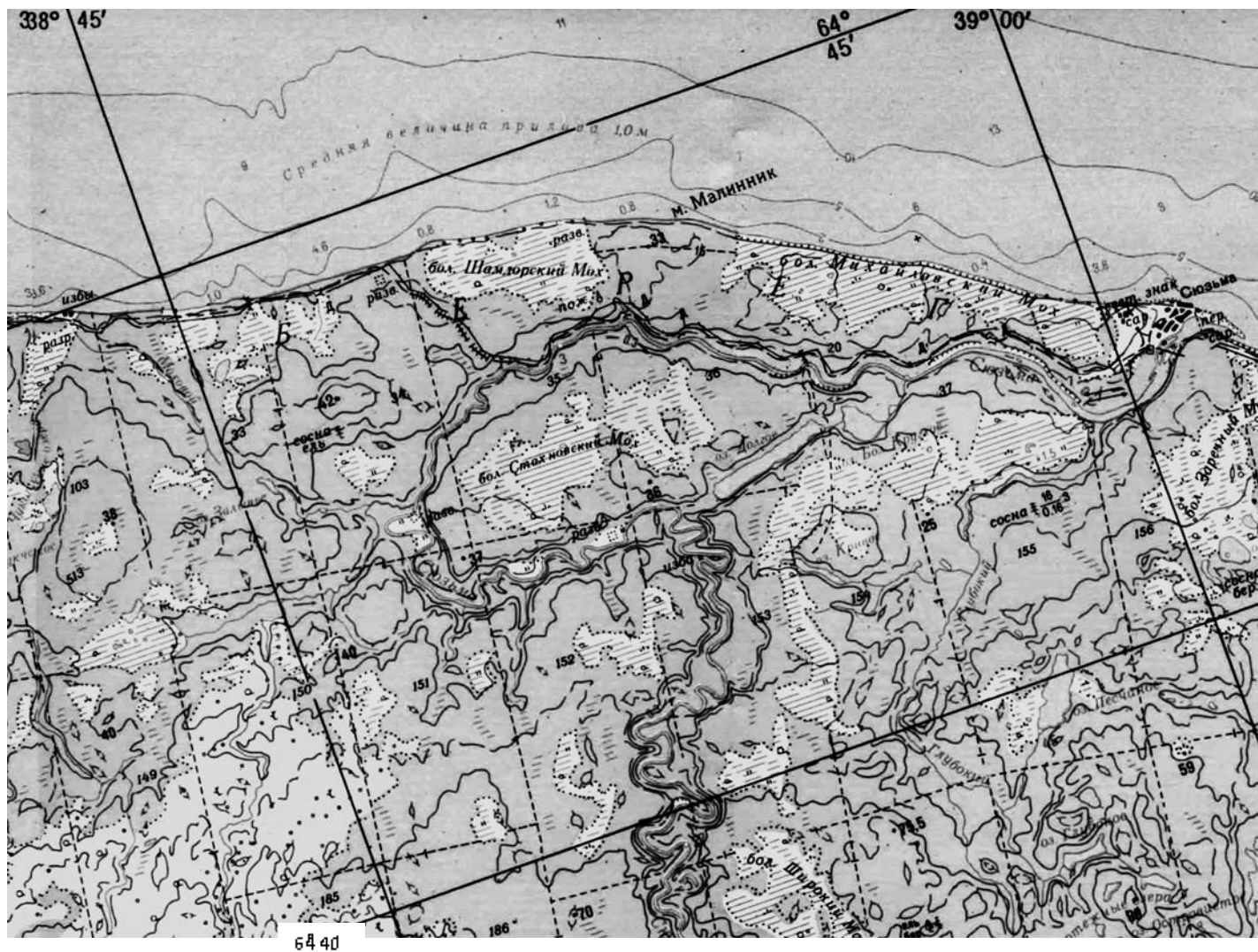
Прочитайте внимательно текст, обращая внимание на выделенные слова. Ответьте на ряд вопросов по тексту (до 5 баллов).

*Климат данного района разнообразен и меняется от избыточного на севере к скудному увлажнению на юге. Вся хозяйственная жизнь связана с **рекой**, в бассейне которой находится район. На севере района находится **республика**, которая славится своими богатыми культурными и историческими традициями. Большинство населения этой республики исповедуют самую молодую из **мировых религий**. На юге находится **республика**, население которой исповедует такую же **религию**, как и один из соседей России в Азии. В районе хорошо развита **электроэнергетика**. В одном из субъектов района находится знаменитый **заповедник** по охране водно-болотных угодий дельты крупной реки. Центр соседнего субъекта является **городом-героем**.*

- 1) Определите название реки, протекающей по экономическому району;
- 2) Какая республика находится на севере района?
- 3) Какую религию исповедуют большинство жителей республики на севере района?
- 4) Запишите название республики на юге района;
- 5) Какую религию исповедуют большинство жителей республики на юге района?
- 6) Какие типы электростанций преобладают в районе?
- 7) О каком заповеднике идет речь в тексте?
- 8) В дельте каких рек находится данный заповедник (укажите обязательно ОБЕ реки)?
- 9) О каком городе-герое идет речь в тексте?
- 10) Определите название экономического района, описываемого в тексте.

Задача 5.

Рассмотрите карту и ответьте на ряд вопросов:



1. Определите масштаб карты, если известно, что расстояние на местности от м. Малинник до переправы у поселка Сюзьма составляет 7,2 км. Опишите еще один способ определения масштаба этой карты (за каждый способ по 2 балла);
2. Определите по карте, через сколько метров проведены основные горизонтали (1 балл);
3. Как определить по данной карте направление север-юг? Назовите два способа (2 балла за ОБА способа);
4. Охарактеризуйте лес, произрастающий по правому берегу ручья Глубокий (1 балл за полный ответ);
5. Опишите все типы растительности, встречающиеся на карте (по 0,5 балла за каждый тип).
6. Фрагмент какой области России представлен на карте (1 балл)?

МАКСИМАЛЬНОЕ КОЛИЧЕСТВО БАЛЛОВ - 51,5

ЛЕНИНГРАДСКАЯ ОБЛАСТЬ
МУНИЦИПАЛЬНЫЙ ЭТАП ВСЕРОССИЙСКОЙ ОЛИМПИАДЫ
ШКОЛЬНИКОВ ПО ГЕОГРАФИИ 2018-2019.

9 КЛАСС.

Тестовый раунд.

1. Чему равна действительная площадь квадрата, который на карте масштаба 1:35 000 000 изображен со стороной 1 см (0,5 балла)?
2. Абсолютная высота вулкана Килиманджаро 5895 м. Вычислите его относительную высоту, если он образовался на равнине, поднимающейся на 500 м над уровнем моря (0,5 балла)?
А) 5395 м; Б) 6395 м; В) 5805 м; Г) 11, 79 м.
3. Какому направлению соответствует азимут 112,5° (1 балл)?
4. О каком море идет речь? Соленость воды 11-13 ‰, t воды летом +25... +30°C, зимой - 0°C, в марте покрывается льдом, после шторма долго остается мутным (1 балл):
А) Азовское; Б) Мраморное;
В) Белое; Г) Аральское.
5. Подберите к путешественнику второго по значимости человека в экспедициях (по 0,5 балла за соответствие):
А) Ф. Магеллан 1. М.П. Лазарев
Б) Ф.Ф. Беллинсгаузен 2. Эль-Кано
В) В. Беринг 3. Ю.Ф. Лисянский
Г) М.Ф. Крузенштерн 4. А.И. Чириков
6. У Калининградской области нет сухопутных границ с РФ. Какая еще область Российской Федерации не имеет сухопутных границ с другими субъектами РФ (1 балл)?
7. Подберите соответствие «номинал купюры-город-памятник культуры» (по 0,5 балла за соответствие):
А) 5000 рублей 1. Москва а) Памятник Ярославу Мудрому
Б) 50 рублей 2. Ярославль б) Памятник Муравьеву-Амурскому
В) 100 рублей 3. Санкт-Петербург в) квадрига на памятнике Большого Театра
Г) 1000 рублей 4. Хабаровск г) женская фигура у Ростральной колонны
8. Подберите соответствие «заповедник – экономический район России» (по 0,5 балла за соответствие):
А) Богдинско-Баскунчакский заповедник 1. Европейский Север
Б) Кроноцкий заповедник 2. Дальний Восток
В) Путоранский заповедник 3. Поволжье
Г) Ненецкий заповедник 4. Восточная Сибирь

Аналитический раунд.

Задача 1.

Прочитайте текст и ответьте на ряд вопросов:

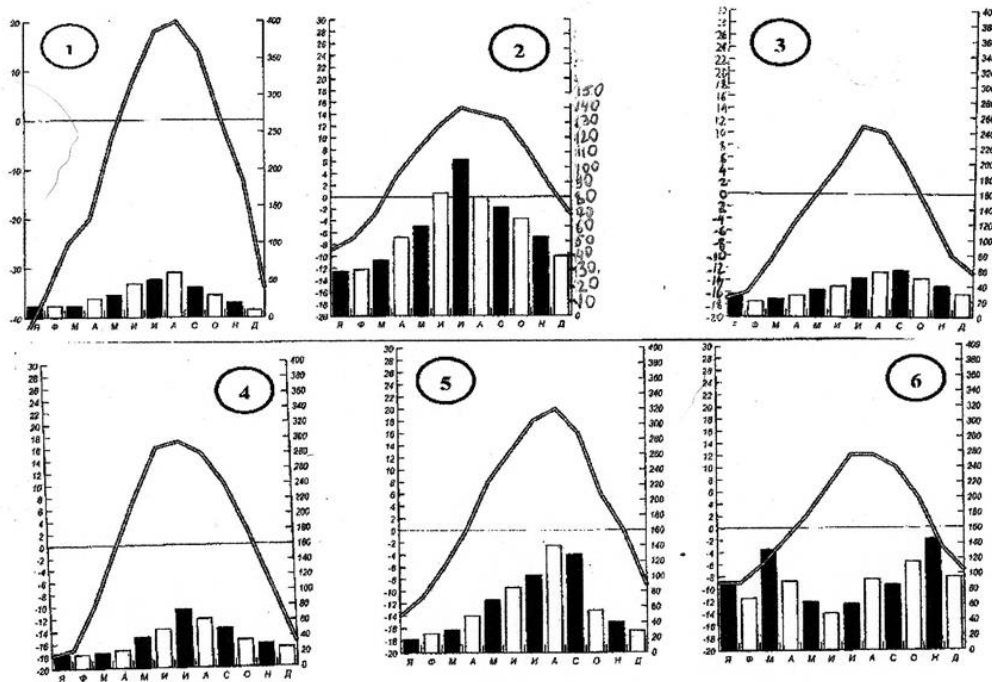
На этом удивительном озере живет «озерный народ» - индейцы племени аймара. Их жилища построены на искусственных плавучих островах, сплетённых из тростника.

Острова известны под общим названием Уро – по названию племени индейцев, когда-то их населявших. Почти всё свою жизнь эти люди проводят на воде, а многие из них никогда не выходили на берег.

1. Как называется это озеро (0,5 балла)?
2. На каком материке оно расположено (0,5 балла)?
3. В каких горах оно расположено (0,5 балла)?
4. На какой высоте расположено озеро (1 балл)?
5. Каково происхождение озерной котловины (0,5 балла)?
6. Что в переводе с индейского языка означает название этого озера (1 балл)?
7. На границе каких двух государств расположено это озеро (по 0,5 балла)?

Задача 2.

Соотнесите города и климатограммы и заполните таблицу на листе ответов (по 0,2 балла за каждую верную ячейку таблицы):



Города: Нарьян-Мар, Владивосток, Москва, Якутск, Тобольск, Петропавловск-Камчатский.

№ климатограммы	город	Субъект РФ	Тип климата/климатич. пояс	Годовая амплитуда температур	Годовое кол-во осадков
1					
2					
3					
4					
5					
6					

Задача 3.

Перед вами топонимы Ленинградской области. Разбейте их на смысловые группы и объясните свой выбор – объекты не должны повторяться в нескольких группах. Ответ оформите в виде таблицы (по 1 баллу за смысловую группу, по 0,25 балла за топоним):

№	Смысловая группа	Объекты
1		
2		
...		

Волхов, Будогощь, Дубровка, Извара, Вартемяки, Иссад, Луга, Кавголово, Войбокало, Копорье, Старая Ладога, Тихвин, Кипень, Сясьстрой, Выра, Высоцк, Рябово, Любань, Глебычево, Мыза, Назия, Лемболово, Гостилицы, Лодейное Поле, Мга, Котельниково, Ополье, Ломоносов, Можайский, Воейково, Свирица, Тосно, Ушаки, Советский.

Задача 4.

Определите республики РФ №№ 1,2,3,4 (по 1 баллу) на схеме и ответьте на ряд вопросов:

Север



Республика 1: коренное население этой республики подразделяется на три группы – горные, луговые и восточные. Упомянуты в хазарском документе X века как черемисы. Верующие – православные.

Республика 2: в XIII-XVI вв. коренное население будущей республики входило в состав Золотой Орды, а вошли в состав России в 1551 году. Верующие – православные. Численность коренного населения, проживающего не только в республике, но и в соседних субъектах составляет более 1,6 млн. человек.

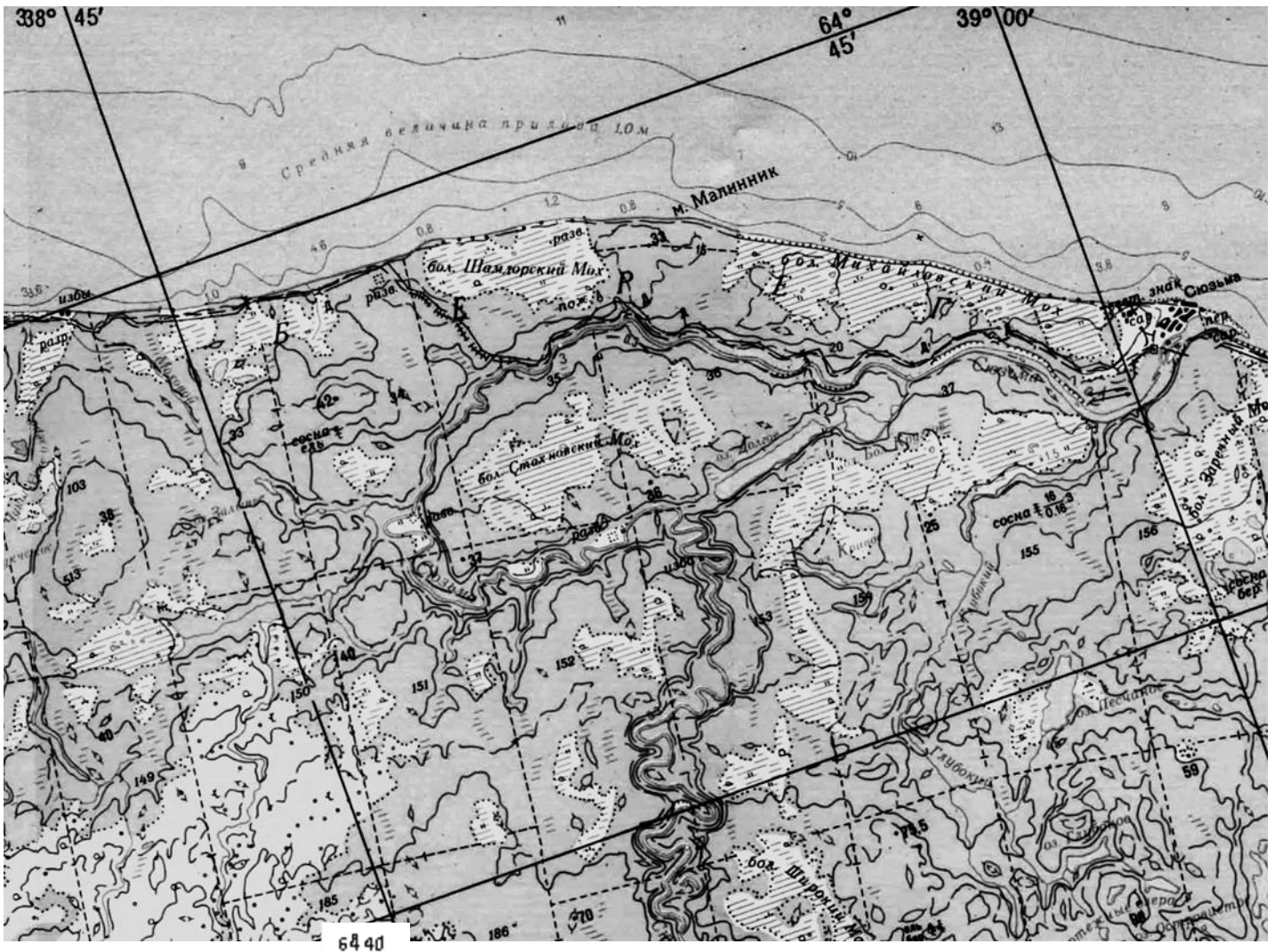
Республика 3: коренное население республики – второй по численности народ РФ. Верующие – мусульмане-сунниты, кроме небольшой группы кряшен и нагай-баков, которые приняли православие в XVI-XVIII вв. Язык относится к алтайской семье языков.

Республика 4: коренное население этой республики состоит из двух основных групп – эрзя и мокша, сохраняющих язык и некоторые различия в традиционной культуре. Предки коренного населения – финно-угорские племена. Верующие – православные.

- 1) Назовите столицы республик (по 0, 25 балла);
- 2) Какая река протекает на севере республики 2 (0,5 балла)?
- 3) Основной ресурс недр республики 3 (0,5 балла)?
- 4) Назовите две крупные ГЭС, находящиеся в республиках 2 и 3 (по 0,5 балла).
- 5) Назовите объект всемирного культурного наследия ЮНЕСКО в республике 3 (1 балл).

Задача 5.

Рассмотрите карту и ответьте на ряд вопросов:



1. Определите масштаб карты, если известно, что расстояние на местности от м. Малинник до переправы у поселка Сюзьма составляет 7,2 км. Опишите еще один способ определения масштаба этой карты (*за каждый способ по 2 балла*);
2. Определите по карте, через сколько метров проведены основные горизонтали (*1 балл*);
3. Как определить по данной карте направление север-юг? Назовите **два** способа (*2 балла за ОБА способа*);
4. Охарактеризуйте лес, произрастающий по правому берегу ручья Глубокий (*1 балл за полный ответ*);
5. Опишите все типы растительности, встречающиеся на карте (*по 0,5 балла за каждый тип*).
6. Фрагмент какой области России представлен на карте (*1 балл*)?

МАКСИМАЛЬНОЕ КОЛИЧЕСТВО БАЛЛОВ - 54,5

ЛЕНИНГРАДСКАЯ ОБЛАСТЬ
МУНИЦИПАЛЬНЫЙ ЭТАП ВСЕРОССИЙСКОЙ ОЛИМПИАДЫ
ШКОЛЬНИКОВ ПО ГЕОГРАФИИ 2018-2019.

10-11 КЛАССЫ.

Тестовый раунд.

1. Чему равна действительная площадь квадрата, который на карте масштаба 1:35 000 000 изображен со стороной 1 см (0,5 балла)?
2. Абсолютная высота вулкана Килиманджаро 5895 м. Вычислите его относительную высоту, если он образовался на равнине, поднимающейся на 500 м над уровнем моря (0,5 балла)?
 А) 5395 м; Б) 6395 м; В) 5805 м; Г) 11, 79 м.
3. Какому направлению соответствует азимут 112,5° (1 балл)?
4. О каком море идет речь? Соленость воды 11-13 ‰, t воды летом +25... +30°C, зимой - 0°C, в марте покрывается льдом, после шторма долго остается мутным (1 балл):
 А) Азовское; Б) Мраморное;
 В) Белое; Г) Аральское.
5. Установите соответствие между страной и государственным языком – (по 0,2 балла за соответствие):

А) Бразилия	1. немецкий
Б) Мексика	2. английский
В) Австрия	3. испанский
Г) Египет	4. португальский
Д) Канада	5. французский
	6. арабский
6. Найдите соответствие между демографической пирамидой и названиями стран (по 1 баллу за соответствие):



- А) Катар; Б) Индия; В) Германия; Г) США.
7. Установите соответствие между объектом и его древним названием (по 0,5 балла за соответствие):

А) Хвалынское море	1. Черное море
Б) Варяжское море	2. Белое море
В) Немецкое море	3. Каспийское море
Г) Понтийское море	4. Балтийское море

Аналитический раунд.

Задача 1.

Прочитайте текст и ответьте на ряд вопросов:

На этом удивительном озере живет «озерный народ» - индейцы племени аймара. Их жилища построены на искусственных плавучих островах, сплетённых из тростника. Острова известны под общим названием Уро – по названию племени индейцев, когда-то их населявших. Почти всё свою жизнь эти люди проводят на воде, а многие из них никогда не выходили на берег.

1. Как называется это озеро (0,5 балла)?
2. На каком материке оно расположено (0,5 балла)?
3. В каких горах оно расположено (0,5 балла)?
4. На какой высоте расположено озеро (1 балл)?
5. Каково происхождение озерной котловины (0,5 балла)?
6. Что в переводе с индейского языка означает название этого озера (1 балл)?
7. На границе каких двух государств расположено это озеро (по 0,5 балла)?

Задача 2.

Перед вами топонимы Ленинградской области. Разбейте их на смысловые группы и объясните свой выбор – объекты не должны повторяться в нескольких группах. Ответ оформите в виде таблицы (по 1 баллу за смысловую группу, по 0,25 балла за топоним):

№	Смысловая группа	Объекты
1		
2		
...		

Волхов, Будогощь, Дубровка, Извара, Вартемяки, Иссад, Луга, Кавголово, Войбокало, Копорье, Старая Ладога, Тихвин, Кипень, Сясьстрой, Выра, Высоцк, Рябово, Любань, Глебычево, Мыза, Назия, Лемболово, Гостилицы, Лодейное Поле, Мга, Котельниково, Ополье, Ломоносов, Можайский, Воейково, Свирица, Тосно, Ушаки, Советский.

Задача 3.

Определите республики РФ №№ 1,2,3,4 (по 1 баллу) на схеме и ответьте на ряд вопросов:

- 1) Назовите столицы республик (по 0, 25 балла);
- 2) Какая река протекает на севере республики 2 (0,5 балла)?
- 3) Основной ресурс недр республики 3 (0,5 балла)?
- 4) Назовите две крупные ГЭС, находящиеся в республиках 2 и 3 (по 0,5 балла).
- 5) Назовите объект всемирного культурного наследия ЮНЕСКО в республике 3 (1 балл).

Север



Республика 1: коренное население этой республики подразделяется на три группы – горные, луговые и восточные. Упоминаются в хазарском документе X века как черемисы. Верующие – православные.

Республика 2: в XIII-XVI вв. коренное население будущей республики входило в состав Золотой Орды, а вошло в состав России в 1551 году. Верующие – православные. Численность коренного населения, проживающего не только в республике, но и в соседних субъектах составляет более 1,6 млн. человек.

Республика 3: коренное население республики – второй по численности народ РФ. Верующие – мусульмане-сунниты, кроме небольшой группы кряшен и нагай-баков, которые приняли православие в XVI-XVIII вв. Язык относится к алтайской семье языков.

Республика 4: коренное население этой республики состоит из двух основных групп – эрзя и мокша, сохраняющих язык и некоторые различия в традиционной культуре. Предки коренного населения – финно-угорские племена. Верующие – православные.

Задача 4.

Определите страну по описанию и ответьте на ряд вопросов (до 9 баллов).

Территория этой страны расположена в субтропическом и тропическом поясах. Климат жаркий, засушливый. Рельеф в основном равнинный (плоскогорья); значительная часть территории занята пустынями. Население составляет более 27 млн. человек, 88% проживает в городах. Это абсолютная монархия, королевство. Один из официальных титулов короля - "Слуга двух священных мечетей». Основа экономики – нефтяная промышленность, доля которой составляет около 45% ВВП и до 90% в экспорте. Значительный доход приносят также паломники-мусульмане, ежегодное количество которых превышает 2 млн. человек.

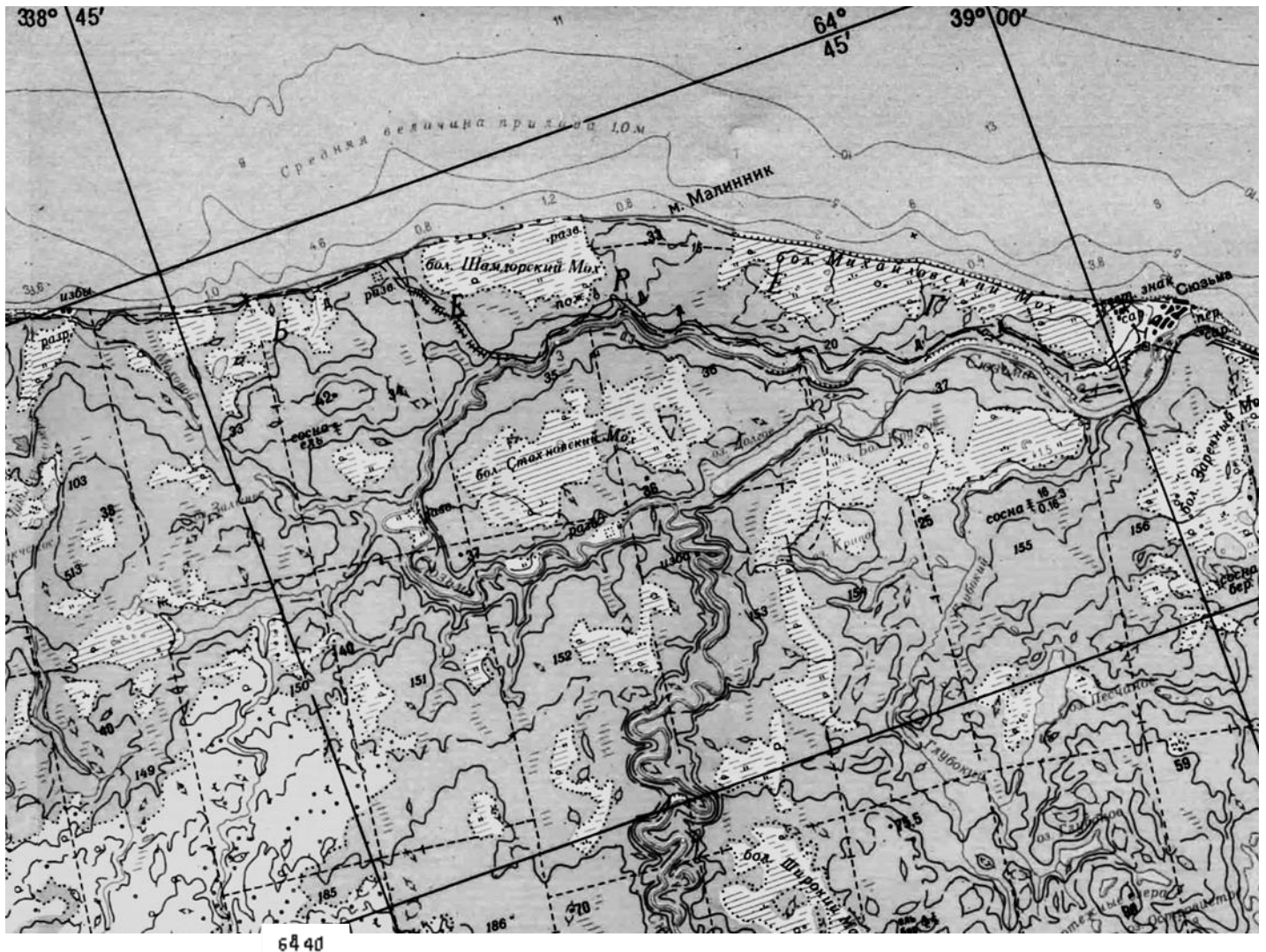
- 1) Назовите страну и её столицу (1 балл + 0,5 балла);
- 2) Назовите два священных города – объекты паломничества (по 0,5 балла);
- 3) Назовите море и залив, омывающие данную страну (по 0,5 балла);
- 4) Назовите страны, граничащие с искомой страной по суше (по 0,5 балла);
- 5) Назовите экономическую отраслевую группировку, в которую входит искомая страна (1 балл);
- 6) Назовите обширную пустыню, распространенную по территории искомой страны (1 балл).

Задача 5.

Рассмотрите карту и ответьте на ряд вопросов:

1. Определите масштаб карты, если известно, что расстояние на местности от м. Малинник до переправы у поселка Сюзьма составляет 7,2 км. Опишите еще один способ определения масштаба этой карты (за каждый способ по 2 балла);

2. Определите по карте, через сколько метров проведены основные горизонтали (1 балл);
3. Как определить по данной карте направление север-юг? Назовите два способа (2 балла за ОБА способа);
4. Охарактеризуйте лес, произрастающий по правому берегу ручья Глубокий (1 балл за полный ответ);
5. Опишите все типы растительности, встречающиеся на карте (по 0,5 балла за каждый тип).
6. Фрагмент какой области России представлен на карте (1 балл)?
7. Что означают отдельно стоящие цифры на карте, рядом с которыми не стоят точки (то есть это не вершины холмов)? (2 балла).



МАКСИМАЛЬНОЕ КОЛИЧЕСТВО БАЛЛОВ - 61,5